

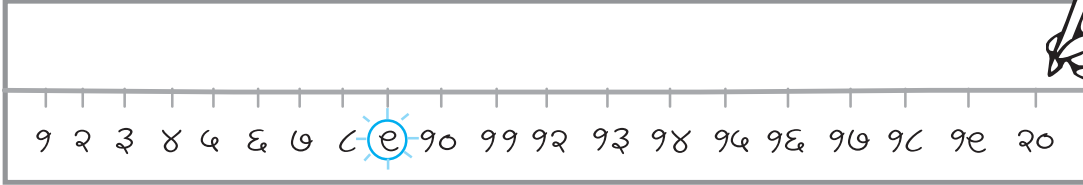
P S x a m d E ' m M m l o

## हा खेळ खेळायचा कसा?


मीनी फळ्यावर एक रेघ आखते.

रेघेखाली ती वीसपर्यंत संख्या लिहिते.

नंतर ती १ ते २० पैकी एक संख्या मनात धरते.



मीनीच्या मनातील  
संख्या ओळखण्याचा  
प्रयत्न शाम करतो.



झेंड्याचे टोक डावीकडे का आहे ?  
कारण मीनीने मनात धरलेली संख्या १५ पेक्षा लहान आहे.

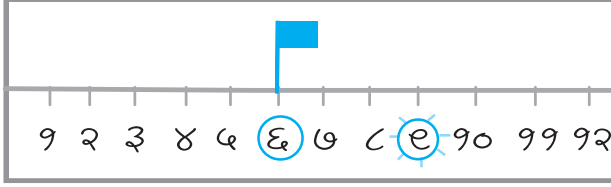


आता मीनीने मनात धरलेली संख्या ओळखण्याचा प्रयत्न स्मिता करते.





मीनी ६ वर झेंडा काढते.



झेंड्याचे टोक उजवीकडे का आहे?

---




---

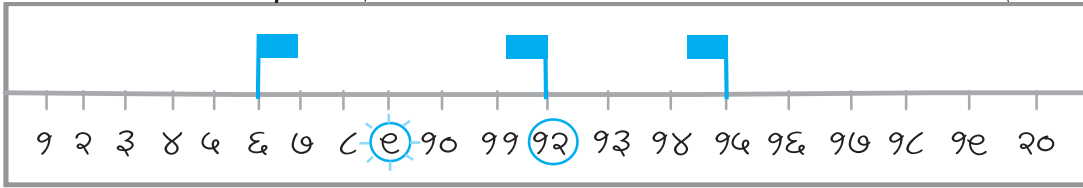


---


आता चुनीदर संख्या ओळखण्याचा प्रयत्न करतो.



मीनी १२ वर झेंडा काढते.



रङ्गीया अंदाज करते.



## खेळ दोग्यांचा

१. तुमच्या वहीत एक संख्यारेषा काढा. कोणत्याही संख्येने सुरुवात करून क्रमाने संख्यारेषेवर संख्या लिहा. जसे, २१ ते ४०.

ह्या संख्यारेषेवर असेच झेंडे रोवून मनात धरलेली संख्या ओळखण्याचा खेळ खेळा.

२. कार्डावरील संख्या ओळखा.

$$\triangle ? > ४३$$

$$\triangle ? < ५४$$

$$\triangle ? < ५०$$

$$\triangle ? < ४५$$